	<p align="center">UNIVERSIDADES PÚBLICAS DE LA COMUNIDAD DE MADRID PRUEBA DE ACCESO A LAS ENSEÑANZAS UNIVERSITARIAS OFICIALES DE GRADO</p> <p align="center">Curso 2011-2012</p> <p>MATERIA: GEOGRAFÍA</p>	<p align="center">MODELO</p>
<p align="center"><u>INSTRUCCIONES Y CRITERIOS GENERALES DE CALIFICACIÓN</u></p> <p>Dispone de dos opciones para contestar (A y B). Debe escoger exclusivamente una de ellas.</p> <p>La puntuación total será en ambas opciones de 10 puntos, correspondiendo a la primera parte 1,5 puntos, a la segunda 4 puntos, a la tercera 2,5 puntos y 2 puntos a la cuarta.</p> <p>TIEMPO. Duración de la prueba: “1 hora y 30 minutos”.</p>		

OPCIÓN A

1ª Parte

Defina, en el cuadernillo adjunto, seis de los siguientes términos o conceptos geográficos, utilizando como máximo una cara del cuadernillo:

Fondos de cohesión, Anticlinal, Isoterma, Energía eólica, P.I.B., Gota fría, Páramo, Turismo rural.

Puntuación máxima: 1,5 puntos.

2ª Parte

Tema: **“La industria en España”.**

Desarrolle, de manera sintética, el tema propuesto (utilice, como máximo, ambas caras de un folio). Como indicativos se señalan los siguientes epígrafes:

- Las etapas del desarrollo industrial.
- La reestructuración de la industria española.
- Implicaciones territoriales de la reconversión industrial.
- Innovación tecnológica y la “transnacionalización” industrial.

Puntuación máxima: 4 puntos.

3ª Parte

Comentario de la fotografía adjunta:

Comente el paisaje de la lámina adjunta, atendiendo, al menos, a:

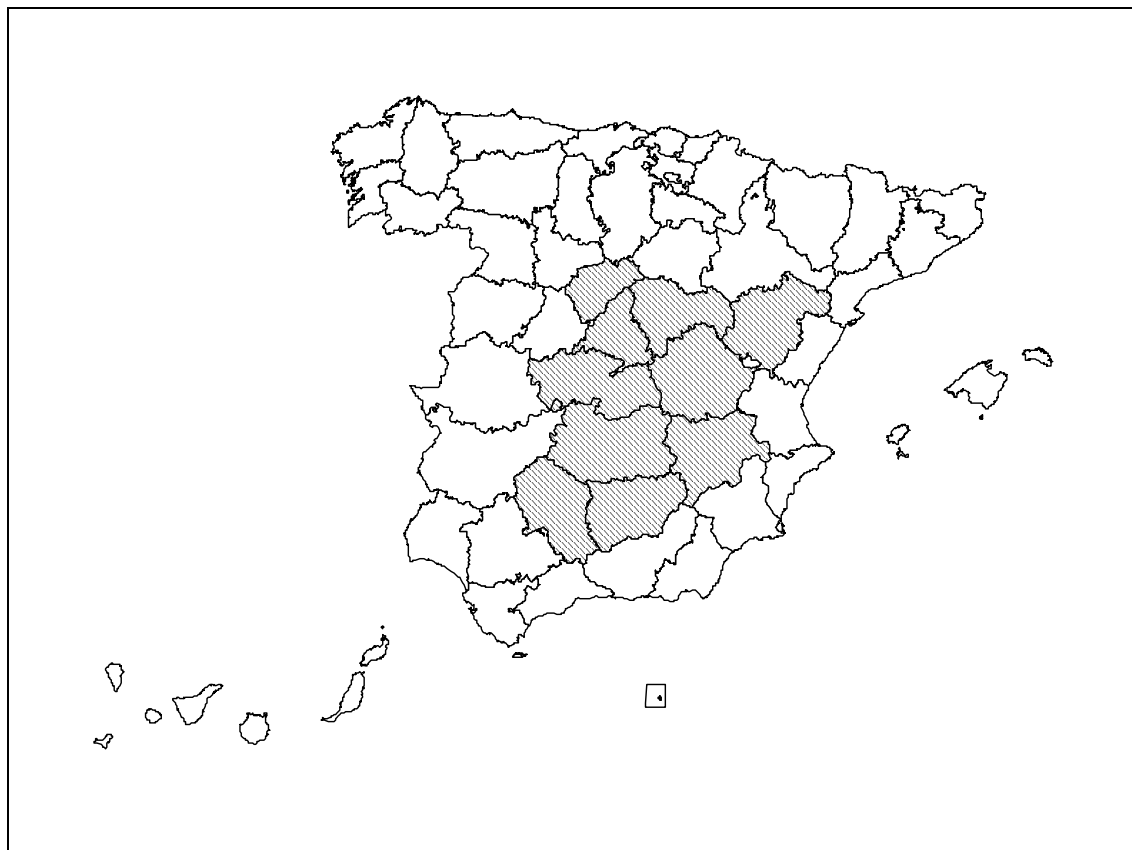
- a) Unidades del paisaje. Haga especial hincapié en las transformaciones recientes del mismo.
- b) Los usos del suelo.
- c) Manifestaciones espaciales de las actividades económicas y del poblamiento.

Puntuación máxima: 2,5 puntos.

4ª Parte

A la vista del mapa adjunto, **“Provincias con una amplitud térmica anual superior a 19º C.”**, señale dichas provincias tramadas y señalen las razones que explican esta distribución.

Puntuación máxima: 2 puntos.



FUENTE: MARM (2009).

OPCIÓN B

1ª Parte

Defina, en el cuadernillo adjunto, **seis** de los siguientes términos o conceptos geográficos, utilizando como máximo una cara del cuadernillo:

Ría, Tiempo atmosférico, Latifundio, Cañada, Consejo Europeo, Concentración parcelaria, I+D+i, Tasa de mortalidad.

Puntuación máxima: 1,5 puntos.

2ª Parte

Tema: **“La población española”.**

Desarrolle, de manera sintética, el tema propuesto (utilice, como máximo, ambas caras de un folio). Como indicativos se señalan los siguientes epígrafes:

- Evolución demográfica.
- Estructura y distribución espacial.
- Movimientos naturales y migratorios.
- La futura evolución demográfica de España.

Puntuación máxima: 4 puntos.

3ª Parte

Comentario del gráfico: Realice un comentario de los gráficos adjuntos, atendiendo, al menos, a los siguientes aspectos:

- Analice el gráfico 1 (Viviendas terminadas en España, y su distribución por Comunidades Autónomas; en 2007), y el gráfico 2 (Evolución de las viviendas terminadas, entre el 2000 y el 2007).
- Describa los factores que explican ambos gráficos.
- Aluda a las consecuencias del cambio producido en estos años.

Puntuación máxima: 2,5 puntos.

Gráfico 1.

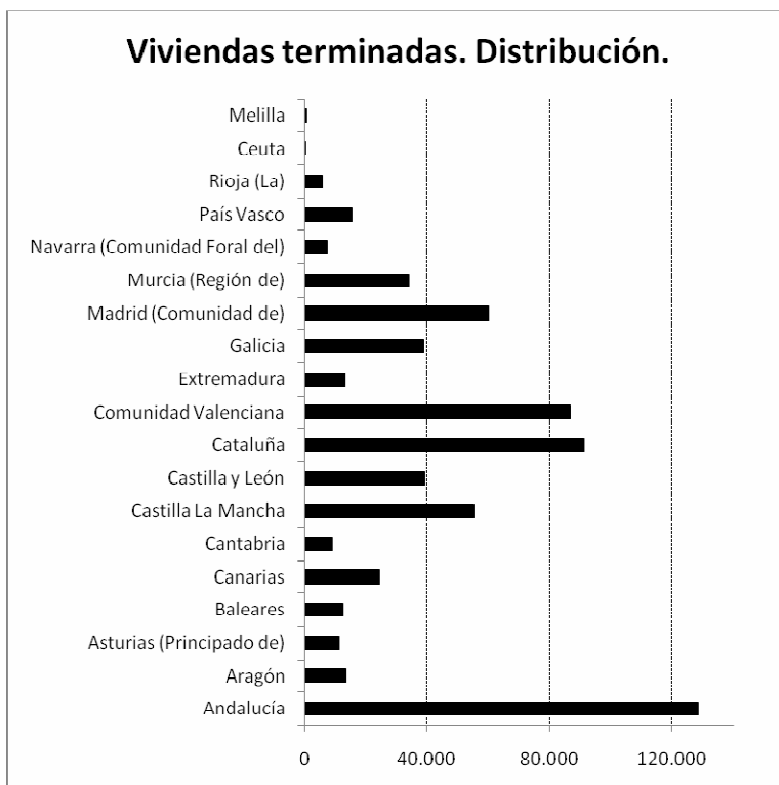
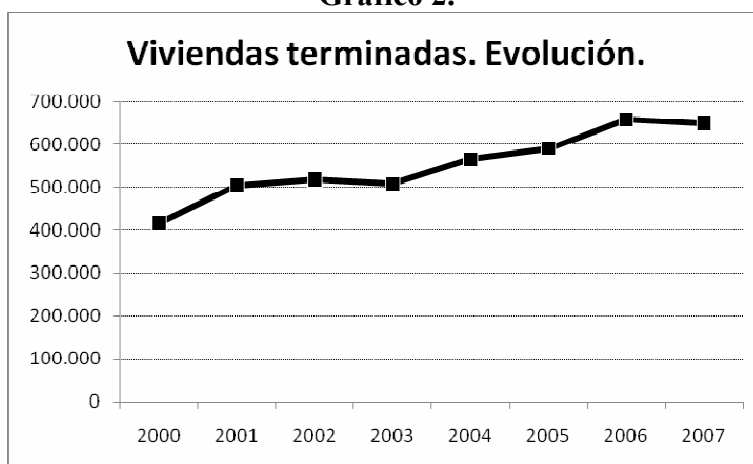


Gráfico 2.



FUENTE: INE (2009).

A la vis



GEOGRAFÍA

CRITERIOS ESPECÍFICOS DE CORRECCIÓN Y CALIFICACIÓN

A) CRITERIO GENERAL:

La puntuación total será, en ambas pruebas, de **10 puntos**, correspondiendo a la primera parte **1'5 puntos**; a la segunda, **4 puntos**; a la tercera, **2'5 puntos**, y a la cuarta, **2 puntos**. La estructura y los criterios de corrección serán los siguientes, tanto para la **Opción A** como para la **Opción B**.

B) CRITERIOS CONCRETOS:

1ª. Primera parte:

1,5 puntos (cada término o concepto: **0'25 puntos**).

Definición de una serie de *términos geográficos y conceptos*. Las respuestas deberán valorarse con un criterio amplio, ya que son numerosas las posibilidades expresivas correctas. En todo caso, se atenderá a la precisión geográfica en la caracterización del término o concepto, y a la claridad conceptual.

2ª. Primera parte:

4 puntos

Trata del “*desarrollo de un tema*”, valorando fundamentalmente la ordenación, la estructuración, la coherencia expositivo-argumentativa; la claridad, la precisión y la organización sintética de los conocimientos, junto con la correcta localización, la comprensión y caracterización de los fenómenos geográficos que se suman al grado y profundidad de los conocimientos.

3ª. Primera parte:

2,5 puntos

Propone “*el comentario de un documento geográfico*”.

* Opción A: “*Comentario de una lámina*”. Se valorará positivamente la existencia de una metodología de comentario de fotografías. **Navalpotro (Guadalajara)**.

* Opción B: “*Comentario de un instrumento gráfico*”. Se valorará la capacidad de extraer información, analizar los datos y caracterizar la situación, en una relación causa-efecto. **Viviendas terminadas en España, distribución y evolución (2000/2007)**.

4ª. Primera parte:

2 puntos

Presenta unos *mapas* cuyo comentario tiene una puntuación máxima de **2 puntos**; en ellos debe atenderse a la correcta localización y caracterización de los elementos solicitados.

Opción A: **Segovia, Madrid, Guadalajara, Teruel, Cuenca, Toledo, Ciudad Real, Albacete, Jaén, Córdoba.**

Opción B: **Zaragoza, Madrid, Castellón, Valencia, Alicante, Murcia, Almería, Granada, Málaga, Sevilla.**

En las cuatro partes de que consta la prueba, se considerarán elementos de ponderación; v.gr.: la calidad de la redacción, la corrección expositivo-argumentativa, la gramatical y la ortográfica.

